

**PRUEBAS DE ACCESO A CICLOS FORMATIVOS DE GRADO SUPERIOR
DE ENSEÑANZAS ARTÍSTICAS PROFESIONALES DE ARTES PLÁSTICAS
Y DISEÑO**

CURSO 2018-2019

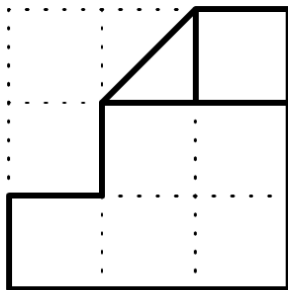
CONVOCATORIA ORDINARIA

NOMBRE Y APELLIDOS:

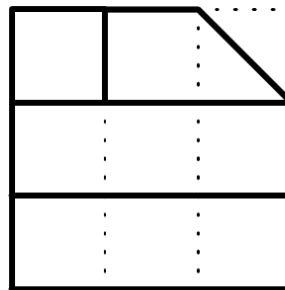
1º EJERCICIO.- Duración 1 h

ENUNCIADO:

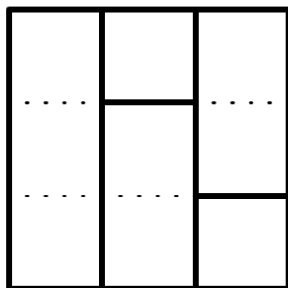
Dadas las siguientes vistas diédricas de la pieza mecánica, croquizar la perspectiva isométrica, puedes servirte del pautado isométrico.



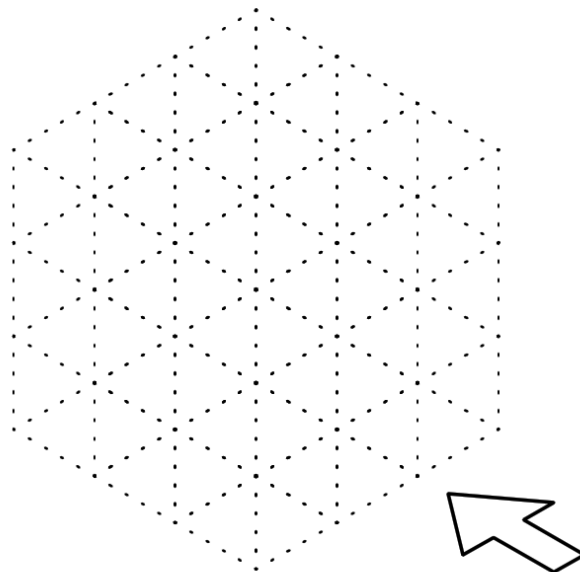
Alzado



Perfil



Planta




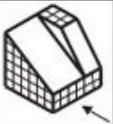






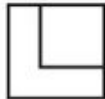
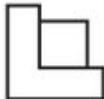








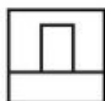
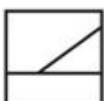

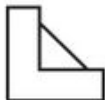
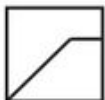
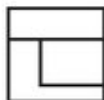
2º EJERCICIO.- Duración 1 h

ENUNCIADO:

Indica en la tabla siguiente los números de las vistas correspondientes a las piezas, teniendo en cuenta que la vista de Alzado se obtiene mirando la pieza en la dirección de la flecha.

Indica en la tabla siguiente los números de las vistas correspondientes a las piezas, teniendo en cuenta que la vista de Alzado se obtiene mirando la pieza en la dirección de la flecha (10 p.)

						
ALZADO						
PLANTA						
PERFIL						

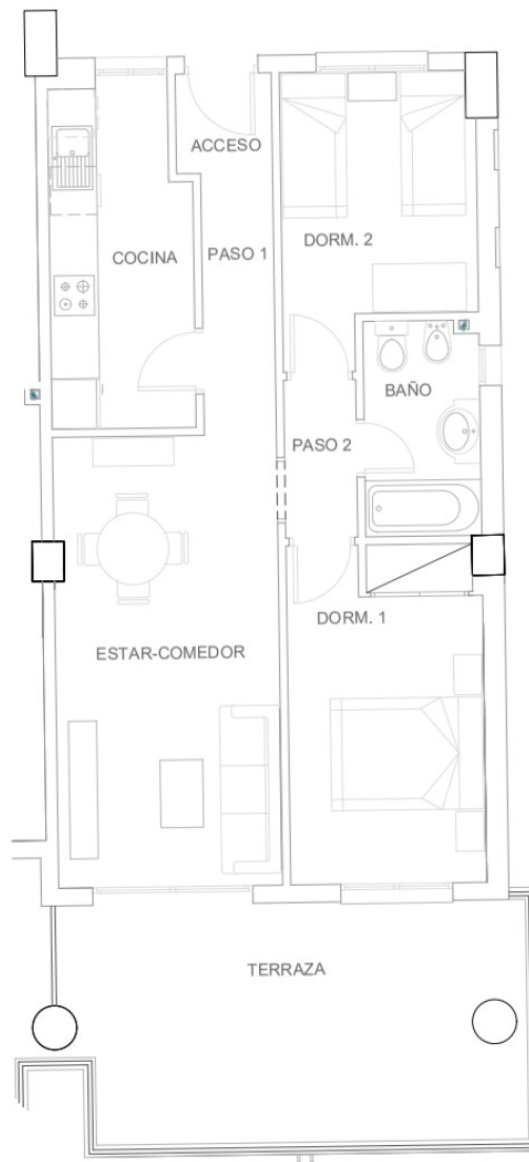
				
1	2	3	4	5
				
6	7	8	9	10
				
11	12	13	14	15
				
	16	17	18	

3º EJERCICIO.- Duración 1 h

ENUNCIADO:

1) Realizar una perspectiva de cualquiera de los espacios dibujados en planta. El punto de vista es libre. La perspectiva se podrá realizar a mano alzada, usando material de dibujo técnico o una combinación de ambos. Se podrán incorporar decoración y mobiliario que no aparezcan en planta.

2) Aplicar color de una manera general, sin entrar en detalles. La idea es distinguir suelo, techos y destacar adecuadamente el mobiliario.

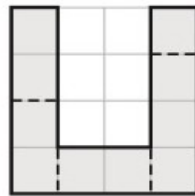


**PRUEBAS DE ACCESO A CICLOS FORMATIVOS DE GRADO SUPERIOR
PROYECTO Y DIRECCIÓN DE OBRAS DE DECORACIÓN****CURSO 2017/2018 CONVOCATORIA ORDINARIA****NOMBRE Y APELLIDOS:**

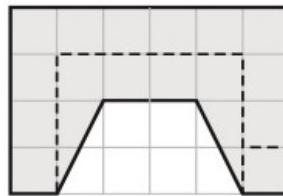
1º EJERCICIO.- Duración 1 h

ENUNCIADO:

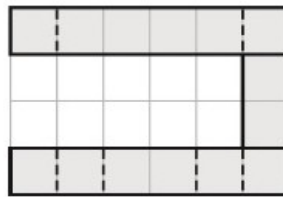
Dadas las siguientes vistas diédricas de la pieza mecánica, croquizar la perspectiva isométrica, puedes servirte del pautado isométrico.




LATERAL DERECHO



ALZADO



PLANTA



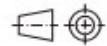
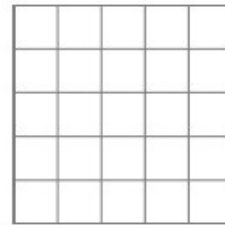

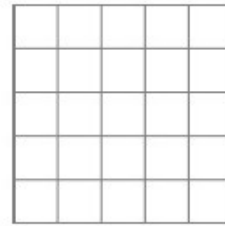

PERSPECTIVA

2º EJERCICIO.- Duración 1 h

ENUNCIADO:

Dibujar las vistas diédricas, Planta, Alzado y Perfil del siguiente objeto, de acuerdo con el Sistema Europeo de representación (UNE 1032)

Cuerpo principal



VISTAS DEL CUERPO PRINCIPAL

3º EJERCICIO.- Duración 1 h

ENUNCIADO:

1) Realizar una perspectiva del espacio dado. El punto de vista es libre. La perspectiva se podrá realizar a mano alzada, usando material de dibujo técnico o una combinación de ambas. Se podrán incorporar decoración y mobiliario que no aparezcan en la planta.

2) Aplicar color de una manera general, sin entrar en detalles. La idea es distinguir suelo, techos y destacar adecuadamente mobiliario.

